

به نام خدا

دستان حاج عباس عسکرون

امتحان: ریاضی

تاریخ: ۱۹/۱۰/۱۳۳۳

نام و نام خانوادگی:

۱ - با توجه به عدد روبرو به سوالات پاسخ دهید.

۳۸۰۲

الف) عدد را به حروف بنویسید و جدول ارزش مکانی آن را رسم کنید.

ب) کدام رقم در کمترین ارزش مکانی قرار دارد؟

ج) آن کمترین رقم در کدام مرتبه قرار دارد؟

د) گسترده ی عدد را بنویسید:

۲ - در جای خالی عدد یا کلمه مناسب قرار دهید:

۴۲۰ سانتی متر ————— متری متر است.

۵۰۰۰ گرم ————— کیلوگرم است.

۲۷۰۰ گرم یعنی ————— کیلوگرم و ————— گرم

۳ - در جای خالی عدد مناسب قرار دهید.

۱۷	+ ۱۱	
۸		
۲۲		
۲۱۸		

زمان	۱۵:۲۰	۲۲:۰۵	
بعد از ظهر		۴:۱۷	۱۰:۳۰

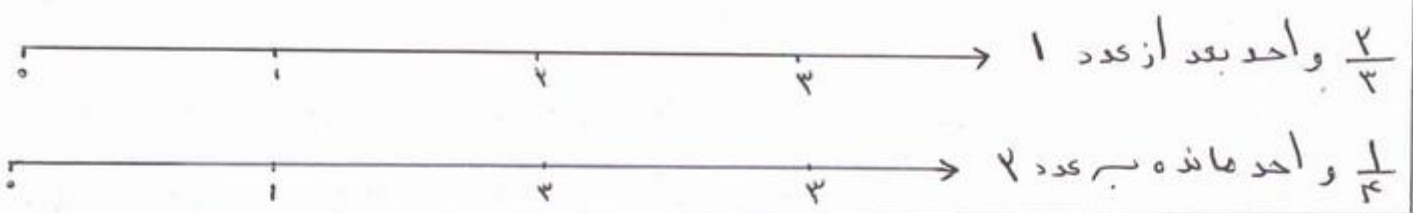
۴ - هری عدد های سه رقمی بزرگتر رقم صدگان آن ۲ یا ۵ ، رقم دهگان آن ۳ یا ۴ و رقم یکان آن ۶ یا ۷ باشد بنویسید.

۵ - مقایسه کنید.

$$\frac{4}{5} \bigcirc \frac{4}{6}$$

$$\frac{1}{8} \bigcirc \frac{2}{8}$$

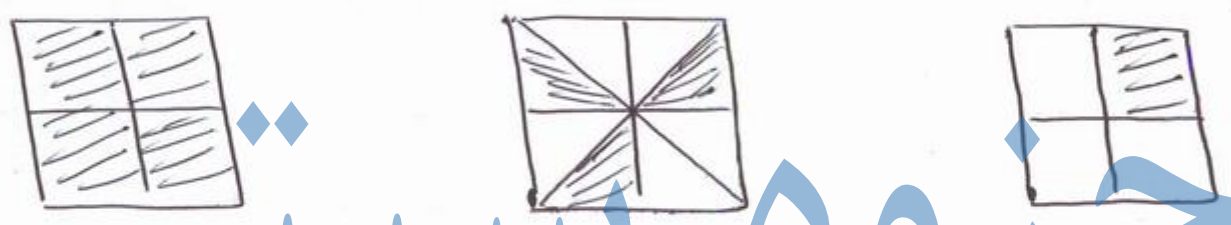
۶ - عددها را زیر را روی محور نشان دهید.



۷ - برای عبارت کسری زیر سه کسر مساوی بنویسید. (با شکل انجام شود)

$$\frac{1}{4} = \frac{\quad}{\quad} = \frac{\quad}{\quad} = \frac{\quad}{\quad}$$

۸ - برای هر شکل یک کسر مناسب بنویسید.



۹ - آنگوی عددی را کامل کنید.

۱۱۵ - ۱۱۸ - _____
 ۲۲۰۰ - ۲۴۰۰ - _____

۱۰ - مغازه داری نوعی بیسکویت را برای ۴۵۰ ریال می خرد و ۵۰۰ ریال می فروشد با کامل کردن جدول، سود فروش هر بسته بیسکویت را حساب کنید.

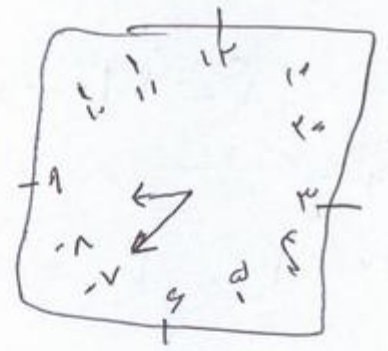
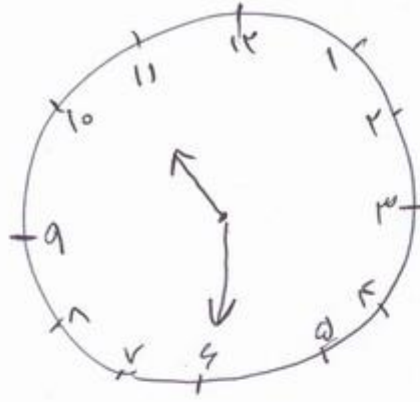
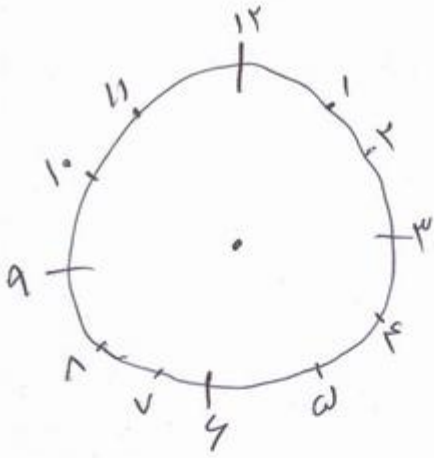
تعداد بسته های بیسکویت	۱	۲	۳	۴	۵	۶	۷	۸	۹
سود بیسکویت ها									

• چند بسته بیسکویت باید بفروشد تا ۳۰۰ ریال سود کند؟

• چند بسته بیسکویت باید بفروشد تا با سود آن ما بتواند یک بسته بیسکویت

بخرد؟

۶- زمان هر ساعت را به دو صورت بنویس



ساعت ... ?

ساعت ... ?


ساعت ... !

ساعت ... ?

ساعت ...

ساعت ... دقیقه از ... دقیقه از ... ساعت ... دقیقه از ... دقیقه از ... ساعت ...

۷- اسم تصویرهای زیر را بنویس



حزوه سیپی

۸- جاهای خالی را با نوشتن رقم یا حرف پر کن

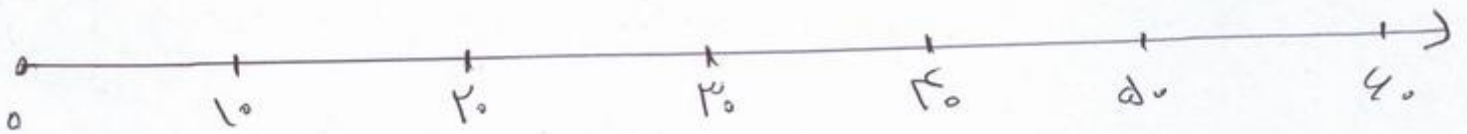
۳۸ = _____

سیصد و خودونه = _____

۳۸۹ = _____

هفتصد و هشت = _____

۹- تقریب اعداد زیر را بنویس و روی محور نشان بده



۱۸ =

۳۸ =

۵۲ =

۲۲ =

۴۱ =

۵۸ =

۱۰- مریم ۲۴ شاخه گل روز از گل فروشی خرید اما گای آنها را به مادرش هدیه داد. مریم چند گل برایش باقی مانده است؟